



ADI SOYADI:

TARİH:

4.SINIF FEN BİLİMLERİ 1.ÜNİTE

Kayaçların oluşumunu numaralandıralım. Alt bölüme isimlerini yazalım.



Fosillerin hangi canlılara ait olabileceklerini yazalım.



.....

.....

.....



.....

.....

.....

C	F	O	S	İ	L	M	N	S	S	P
D	R	G	A	N	İ	S	M	N	Y	A
İ	R	A	K	G	P	F	P	B	F	L
N	N	İ	A	A	L	O	E	T	U	E
O	O	C	L	S	O	S	A	N	N	O
Z	T	P	I	G	V	S	C	E	I	N
O	N	A	N	L	E	I	E	M	Z	T
R	A	T	T	O	N	L	U	I	I	O
Z	L	E	I	Y	E	S	P	D	N	L
R	C	A	N	L	I	R	V	E	D	O
T	A	Ş	L	A	Ş	M	I	Ş	G	G

**Fosiller konusyla ilgili
6 kelimeyi bulup yazalım.**

- 1.....
- 2.....
- 3.....
- 4.....
- 5.....
- 6.....



Dünya 'nın kendi etrafında yaptığı harekete ne denir?

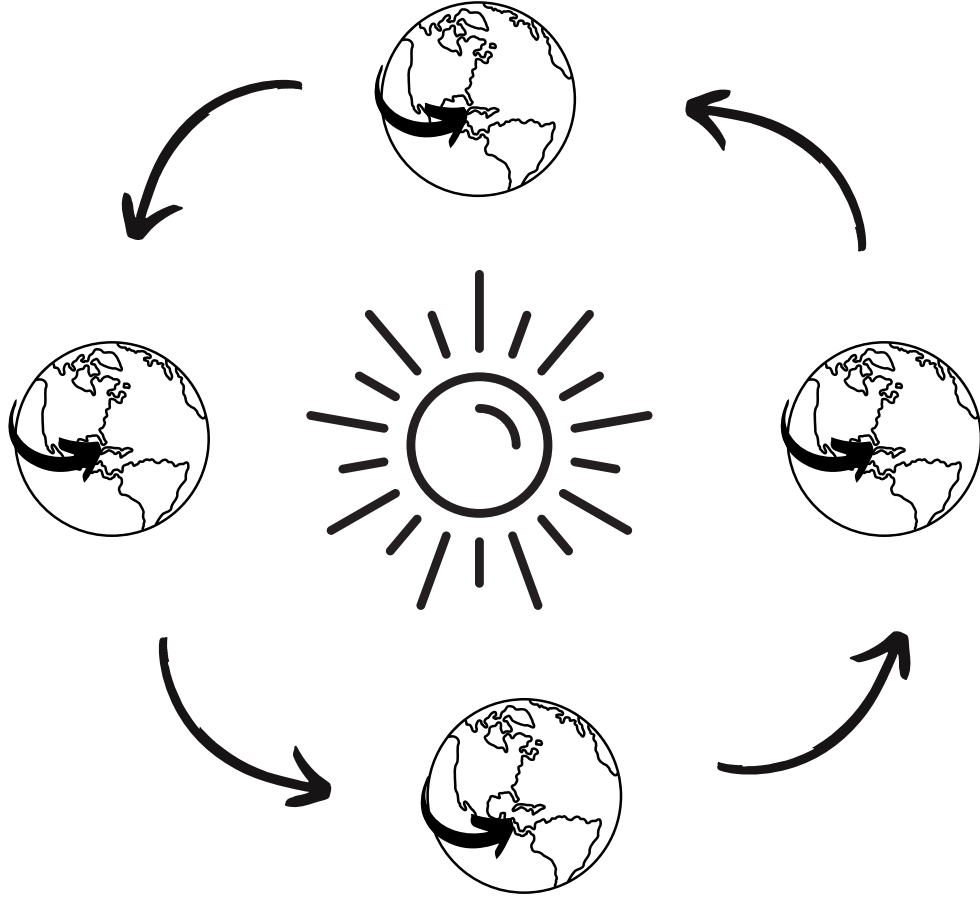
“-----”
L-----”

Bu hareket sonucunda ne oluşur?

“-----”
L-----”

Bu hareket ne kadar sürede tamamlanır?

“-----”
L-----”



Dünya 'nın Güneş etrafında yaptığı harekete ne denir?

Bu hareket sonucunda ne oluşur?

Bu hareket ne kadar sürede tamamlanır?