


ADI SOYADI :

OKUL NO :

VELİ
İMZA

1. Aşağıdaki şekilleri inceleyiniz. Sonra çıkarma işlemini yapınız.




$$8 - 2 = ..$$

8'den 2 çıktı, kaldı.



$$5 - 2 = .$$

5 balondan 2'si uçtuü kaldı.




$$4 - 3 = .$$

4 arıdan 3'ü uçtu.....'i kaldı.




2. Şekilleri inceleyerek çıkarma işlemlerini yapınız.




$$6 - 2 = .$$

6'dan 2 çıktı..... kaldı.



$$. - . = .$$


... 'ten ... çıktı ... kaldı.



$$. - . = .$$

... 'ten ... çıktı ... kaldı.

3. Şekilleri inceleyerek çıkarma işlemlerini yapınız.



$$8 - 2 = .$$

8'den 2 çıktı..... kaldı.




$$5 - 1 = .$$

... eksi eşittir eder.



$$9 - 4 = .$$



9 oyuncakın 4'ü satıldı
....oyuncak kaldı.

4. Aşağıdaki çıkarma işlemlerini yapınız.

$$9 - 2 = .$$

$$3 - 2 = .$$

$$8 - 5 = .$$

$$6 - 3 = .$$

$$4 - 2 = .$$

$$5 - 4 = .$$

$$7 - 3 = .$$

$$9 - 6 = .$$

5. Aşağıdaki çıkarma işlemlerini yapınız.

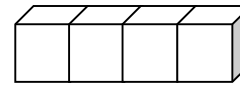
$$\begin{array}{r} 5 \\ - 4 \\ \hline \end{array}$$

$$\begin{array}{r} 6 \\ - 2 \\ \hline \end{array}$$

$$\begin{array}{r} 4 \\ - 1 \\ \hline \end{array}$$

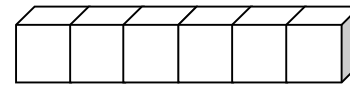
$$\begin{array}{r} 7 \\ - 2 \\ \hline \end{array}$$

6. Şekilleri inceleyerek çıkarma işlemini yapınız.



$$7 - 3 = .$$

7 kutudan 3 kutu çıktı kutu kaldı.



$$8 - 2 = .$$

8 kutudan 2 kutu çıktı kutu kaldı.