

MATEMATİK

Aşağıdaki sayıların yazılışlarını ve okunuşlarını yazınız.

95 : _____ otuz sekiz:

28: _____ kırk altı:

Aşağıdaki sayı çiftlerinden küçük olanın kutusunu kırmızıya boyayınız.

23	32		28	26		14	13		42	54		56	62
----	----	--	----	----	--	----	----	--	----	----	--	----	----

Aşağıdaki sayı çiftlerinden büyük olanın kutusunu maviye boyayınız

46	64		58	52		28	23		25	46		61	16
----	----	--	----	----	--	----	----	--	----	----	--	----	----

Aşağıdaki noktalı alanlara, verilen sayılara göre büyüktür, küçüktür veya eşittir yazınız.

34.....43'ten

59.....33'ten

26.....25'ten

93.....99'dan

46.....28'ten

52.....52'ye

Aşağıdaki sayıları küçükten büyüğe doğru sıralayınız.

39 23 62 30 72 19 75 85 31 82

--	--	--	--	--	--	--	--	--	--

Aşağıdaki sayıları büyükten küçüğe doğru sıralayınız.

34 72 76 92 53 68 84 63 14 93

--	--	--	--	--	--	--	--	--	--

Aşağıdaki cümlelerde bulunan noktalı alanları uygun şekilde doldurunuz.

2 deste kalem.....tane kalem eder.

2 düzine elmatane elma eder.

2 düzine cevize 12 ceviz eklersektane ceviz eder.

2 deste havuca, 13 havuç eklersektane havuç eder.

3 düzine kalem 14 çıkarırsak.....tane kalem eder.

Aşağıdaki örüntünün kuralını belirleyiniz ve örüntüyü kuralına göre 3 kez devam ettiriniz.

Örüntü

Örüntünün Kuralı

36 39 42 45 48_ _ _ (.....)

64 60 56 52 48 _ _ _ (.....)

Aşağıdaki onluk ve birlikleri verilen doğal sayıları yazınız.

7 onluk ve 0 birlikten oluşan sayı =

6 birlik ve 9 onluktan oluşan sayı =

3 onluk ve 7 birlikten oluşan sayı =

4 birlik ve 8 onluktan oluşan sayı =

Aşağıda verilen problemleri çözünüz.

Annemin yaşı, 3 desteden 4 fazladır. Ablamın yaşı 10 a yuvarlanan en büyük sayıdır. Buna göre annem ve ablamın yaşları toplamı kaçtır?

Mağazadan 65 liraya kazak, 24 liraya şapka aldım. Giysilerin toplam fiyatı hangi onluğa yuvarlanır?

4 birlik, 6 onluktan oluşan sayı ile 2 onluk 4 birlikten oluşan sayıların toplamı hangi onluğa yuvarlanır?

Aşağıdaki toplama işlemlerini yapınız.

$$\begin{array}{r} 69 \\ + 13 \\ \hline \end{array} \quad \begin{array}{r} 65 \\ + 17 \\ \hline \end{array} \quad \begin{array}{r} 73 \\ + 18 \\ \hline \end{array} \quad \begin{array}{r} 45 \\ + 36 \\ \hline \end{array} \quad \begin{array}{r} 29 \\ + 45 \\ \hline \end{array} \quad \begin{array}{r} 16 \\ + 74 \\ \hline \end{array} \quad \begin{array}{r} 57 \\ + 36 \\ \hline \end{array}$$

Aşağıdaki çıkarma işlemlerini yapınız.

$$\begin{array}{r} 73 \\ - 18 \\ \hline \end{array} \quad \begin{array}{r} 67 \\ - 19 \\ \hline \end{array} \quad \begin{array}{r} 72 \\ - 14 \\ \hline \end{array} \quad \begin{array}{r} 85 \\ - 37 \\ \hline \end{array} \quad \begin{array}{r} 94 \\ - 49 \\ \hline \end{array} \quad \begin{array}{r} 52 \\ - 43 \\ \hline \end{array} \quad \begin{array}{r} 93 \\ - 76 \\ \hline \end{array}$$

Aşağıdaki işlemlerde eşitliği sağlayacak sayıları bulunuz.

$$23 + 8 = 14 + \dots$$

$$25 + 8 = \dots + 16$$

$$62 - \dots = 34 + 21$$

$$58 - 34 = \dots + 12$$

Aşağıdaki işlemlerde verilmeyen toplananları bulunuz.

$$\begin{array}{r} \square \\ + 28 \\ \hline 76 \end{array}$$

$$\begin{array}{r} 23 \\ + \square \\ \hline 51 \end{array}$$

$$\begin{array}{r} \square \\ + 37 \\ \hline 82 \end{array}$$

$$\begin{array}{r} 54 \\ + \square \\ \hline 92 \end{array}$$

Aşağıdaki işlemlerde verilmeyen eksilen ve çıkanları bulunuz.

$$\begin{array}{r} \square \\ - 24 \\ \hline 51 \end{array}$$

$$\begin{array}{r} 53 \\ - \square \\ \hline 25 \end{array}$$

$$\begin{array}{r} \square \\ - 15 \\ \hline 37 \end{array}$$

$$\begin{array}{r} 72 \\ - \square \\ \hline 35 \end{array}$$

Aşağıdaki işlemlerin sonuçlarını tahmin ediniz. Daha sonra gerçek sonuçları bulunuz.

İşlem	Tahminim	Kontrol	Fark
$\begin{array}{r} 25 \\ +44 \\ \hline \end{array}$ +..... +	

İşlem	Tahminim	Kontrol	Fark
$\begin{array}{r} 62 \\ + 16 \\ \hline \end{array}$ +..... +	

İşlem	Tahminim	Kontrol	Fark
$\begin{array}{r} 84 \\ - 36 \\ \hline \end{array}$ +..... +	

İşlem	Tahminim	Kontrol	Fark
$\begin{array}{r} 79 \\ - 33 \\ \hline \end{array}$ +..... +	

2.Sınıf Yarıyıl Tatil Ödevi

Bir otobüste 48 yolcu var. Birinci durakta 16 yolcu biniyor. İkinci durakta 24 yolcu iniyor. Buna göre otobüste kaç yolcu kalmıştır?

Esra 18 yaşında, Şeyma 12 yaşındadır. İkisinin 2 yıl sonra yaşları toplamı kaçtır?

14 sayısının 36 fazlası, 5 düzineden kaç eksiktir?

Deniz'in 67 lirası var. Parasının 15 lirası ile kitap, 13 lirası ile kalem aldı. Deniz'in geriye kaç lirası kaldı?

Hafta sonu Matematik dersinden 25, Türkçe dersinden 20, Hayat Bilgisi dersinden 15 soru çözdüm. Çözdüğüm soru sayısı 5 düzineden kaç eksiktir?

4 sürahi su ile 1 kova doluyor ise, 12 sürahi su ile kaç tane kova dolar?

Bir varil 25 kova su almaktadır. Buna göre 3 varil kaç kova su alır?

Bir sürahi 5 su bardağını doldurmaktadır. 3 tane dolu sürahi kaç su bardağını doldurur?

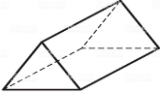

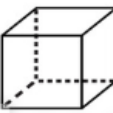
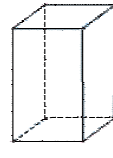


Bir şişe meyve suyu 3 bardak dolduruyor. 4 şişe kaç bardak doldurur?

Günde 2 bardak süt içen Akın 3 haftada kaç bardak süt içer?

Aşağıdaki cümlelerde boş bırakılan yerleri tamamlayınız.

- Karenin tüm kenarları uzunluktadır.
- Dikdörtgenin kenar uzunlukları birbirine eşittir.
- Çemberin köşesi ve kenarı
- Karenin ve dikdörtgenin köşesi ve kenarı bulunmaktadır.
- Üçgenin, üç tane ve üç tane vardır.

Aşağıdaki tabloyu istenilen bilgilere göre doldurunuz.

Şekiller	Şeklin adı	Köşe sayısı	Ayrit sayısı	Yüzey sayısı
				
				
				
				
				
				

Aşağıda verilen saate göre yelkovan hareketlerini belirtiniz.

Yelkovan saat yönünde çeyrek tur dönerse yelkovanın yönü hangi sayıyı gösterir?.....

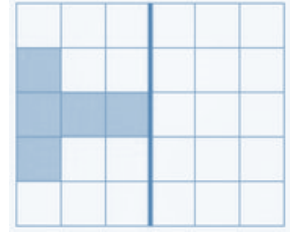
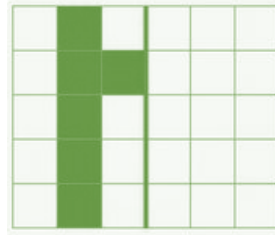
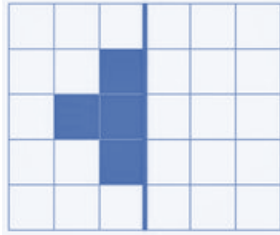
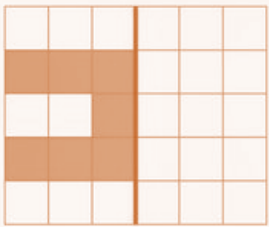
Yelkovan saat yönünde yarım tur dönerse yelkovanın yönü hangi sayıyı gösterir?.....

Yelkovan saat yönünde 3 çeyrek tur dönerse yelkovanın yönü hangi sayıyı gösterir?.....

Yelkovan saat yönünde tam tur dönerse yelkovanın yönü hangi sayıyı gösterir?.....



Aşağıda verilen şekillerin simetriğini boş kısımlarına çiziniz ve boyayınız .



Aşağıda verilen görsellerin simetrisini çizerek tamamlayınız.



TÜRKÇE

Aşağıda verilen harf - hece çalışmasını yapınız.

Kelime	Harf sayısı	Ünlü harfler	Ünsüz harfler	Hecelerine ayırma	Hece sayısı
sürahi					
merdiven					
çikolata					
gofret					
deterjan					
apartman					
teleferik					
profesör					
jandarma					
ilkokul					
hanımeli					
aslanağzı					
dürüst					

Aşağıdaki sözcükleri satır sonuna sığmadığında nasıl yazılabileceklerini örnekteki gibi yazınız.

ispanak

.....ispa-
nak.....is-
panak

deterjan

.....-

.....-

tasarım

.....-

.....-

Aşağıdaki metni okuyup verilen soruları cevaplayınız.

PAMUK NİNE

Pamuk Nine, Şenlik Köy 'ünde yalnız yaşayan çocukları çok seven biriydi. Köydeki herkes Pamuk Nine'yi çok sever, bir ihtiyacı olduğu zaman elbirliğiyle yardım ederlerdi.

Pamuk Nine köydeki çocuklar ile toplanıp onlarla birlikte kitap okumayı çok severdi. Çünkü kitap okumak zihnimizi açar, ufkumuzu geliştirir, hayal gücümüzü genişletir. Köydeki bütün çocuklar her gün öğleden sonra Pamuk Nine'nin evine gider hep birlikte kitap okurlardı. Kitap okuma toplantıları çok güzel geçerdi. Kitabını okuyan çocuk bunu Pamuk Nine'ye ve arkadaşlarına anlatır ve Pamuk Nine'den hediyesini kapardı. Hediyesini alan çocuk büyük bir sevinçle evine gider bir dahaki kitap okuma zamanını heyecanla beklerdi.

Kitap okuyan hem öğrenir, hem kazanırdı. Çocuklar mutlu olunca Pamuk Nine de çok mutlu olurdu.

1)Şenlik Köy 'ünde yalnız yaşayan kimdi?

.....

2) Pamuk Nine nerede yaşardı?

.....

3) Köydeki insanlar Pamuk Nine'ye nasıl davranırdı?

.....

4) Pamuk Nine en çok ne yapmayı severdi?

.....

5) Çocuklar niçin okudukları kitabı Pamuk Nine'ye anlatırdı?

.....

6) Köydeki çocuklar ne zaman Pamuk Nine'nin evine giderdi?

.....

Aşağıdaki metinde bulunan yay ayraç içlerine uygun noktalama işaretlerini koyunuz.

İĞDE AĞACI

Atatürk doğayı ve ağacı çok severdi() Ankara()daki Orman Çiftliği()ni boz topraktan orman haline getirdi() Ağaçların dikilişini() tutuşunu() büyüyüşünü sürekli izledi() Akköprü tarafından Çiftlik()e giden yolun etrafındaki boş topraklar meyvelik olmuştu() Bir gün bu meyvelikten geçerken birdenbire şoförüne()

() Dur dedi()

Arabadan inerek orada bulunanlara()

()Burada bir iğde ağacı vardı, ne oldu() diye sordu() Kimse iğde ağacını bilmiyordu() Atatürk()ün biraz önceki neşesi kalmamıştı() Çünkü Çiftlik()in ilk çorak günlerinin yeşilliği sökülüp atılmıştı() Yol boyunca hep iğde ağacını aradı() Atatürk ()

()İğde() yaşlı ve çelimsiz bir ağaçtı() Fakat yaşıyordu() Baharda güzel kokular veriyordu() diye sızlandı()

Aşağıdaki cümleleri oluş sırasına göre numaralandırınız.

Arkadaşım ona aldığı hediyeyi çok beğendi. ()

Arkadaşım beni doğum gününe çağırdı. ()

Doğum gününe gitmeden önce hediye aldım. ()

Arkadaşıma hediyesini verdim. ()

Aşağıda verilen kelimelerin zıt anlamlarını yazınız.

Uzun		Dar	
Fazla		Acemi	
Kapalı		Alt	
Zengin		Eski	
Dost		İhtiyar	
Beyaz		İyi	
Hızlı		Ucuz	
Doğu		Zayıf	
Ön		Uslu	
Açık		Sıcak	

Aşağıdaki cümlelerde altı çizili kelimelerin eş anlamlarını noktalı alanlara yazınız.

Eski bayramlara hasret kaldık. (.....)

Bahçede kara zeytin ağaçları var. (.....)

Dedem savaşta tutsak düşmüş. (.....)

Sınıfta hepimizin bir görevi var. (.....)

Babamı düşümde gördüm. (.....)

Aşağıdaki cümleleri okuyup türlerine göre eşleştiriniz.

Her sabah yaparım kahvaltımı.

Olumsuz cümle

Okula gitmeden çantamı hazırlarım.

Soru cümlesi

Çarşıdan ekmek aldın mı?

Devrik cümle

Kahvaltıda yumurta yemedim

Kurallı cümle

Aşağıdaki cümlelerde bulunan noktalı alanları verilen neden-sonuç ifadeleri ile tamamlayınız.

bu nedenle	için	bu yüzden	çünkü
------------	------	-----------	-------

Bardak çok sıcaktı elim yandı.

Aslı okula gidememiş ayağını incitmiş.

Karnım ağrıdığı uyuyamadım.

Misafirlerimiz gelecek hazırlık yaptık.

Aşağıdaki kelimeleri sözlükte bulunış sırasına göre örnekteki gibi numaralandırınız.

1	balık	3	boru	4	boya	2	bebek
---	-------	---	------	---	------	---	-------

	dere		demir		doruk		dayı
--	------	--	-------	--	-------	--	------

	kamyon		kısa		kutu		keci
--	--------	--	------	--	------	--	------

Aşağıdaki atasözleri ve deyimleri anlamları ile eşleştiriniz.

1	Ağaç yaş (fidan) iken eğilir.	Masrafların gelirinden fazla olursa gün gelir dara düşersin.
2	Aç ayı oynamaz.	İnsanlar küçük yaşta kolay eğitilir.
3	Küplere binmek	Davranış ve yetenekleriyle ilgi ve önem kazanmak.
4	Ayağını yorganına göre uzat.	Azar azar olagelen şeyler birikerek önemli bir niceliğe ulaşacağı için küçümsenmemelidir.
5	Damlaya damlaya göl olur.	Kendisinden iş beklenen kimseden emeğinin karşılığı esirgenmemelidir;
6	Göze girmek	Çok öfkelenmek.

Aşağıdaki cümlelerde bulunan yazım hatalarını düzelterek yazınız.

bu çiçekleri kim getirdi.

.....

bir yılda elliiki hafta vardır.

.....

ramazan bayramında çok Fazla şeker topladım.

.....

Herkez okul bahçesinde sıra oldu.

.....

Aşağıdaki sözcükleri örnekteki gibi türlerine göre işaretleyiniz.

Sözcük	Tekil isim	Çoğul isim	Topluluk ismi
ev	X		
kitaplar		X	
takım			X
çiçek			
kalemler			
ordu			
koltuk			
halk			
saatler			
soba			
millet			
sincaplar			

2.Sınıf Yarıyıl Tatil Ödevi

Aşağıda verilen eş sesli (sestesh) sözcükleri farklı anlamlarıyla örnekteki gibi cümle içinde kullanınız.

Kırmızı <u>g</u> ülü çok severim.	gül	Arkadaşımın şakalarına çok <u>g</u> ülüyorum
	kara	
	bin	
	dal	
	al	
	aç	
	kaz	

HAYAT BİLGİSİ

Benim adım Yusuf. Kıvırcık saçlı, siyah gözlü ve esmerim. Yaşıtlarıma göre uzun boyluyum. Biraz da kiloluyum.

Yukarıdaki bilgiye göre Yusufun hangi özelliklerinden söz etmektedir?

- A) Zihinsel özelliklerinden
- B) Fiziksel özelliklerinden
- C) Duygusal özelliklerinden

2. Gizem'in flüt çalmayı, Aslı'nın voleybol oynamayı, Buse'nin dans etmeyi sevmesi aşağıdakilerden hangisiyle açıklanabilir?

- A) Arkadaşlarımızla farklı özelliklerimiz olabilir.
- B) İyi arkadaşlar aynı özelliklere sahiptir.
- C) Arkadaş seçerken benzer özelliklerimizi dikkate almalıyız.

3. Sınıfta ilgili alınacak kararlarda görüşümüzü bildirirken

Bu cümlelerin devamına hangisinin yazılması uygun olmaz?

- A) kibar olmalıyız
- B) saygılı olmalıyız
- C) sabırsız olmalıyız

4. Kendi gücünü ve olanaklarını başkalarının iyiliği için kullanmaya ne denir?

- A) Sevgi
- B) Yardım
- C) Bencillik

5. Yolda tanımadığımız biri bize bir yiyecek ikram etmek isterse ne yapmalıyız?

- A) Yiyeceği alıp yemeliyiz.
- B) "Hayır" diyerek oradan uzaklaşmalıyız.
- C) Yiyeceği alıp arkadaşımıza vermeliyiz.

6. Okulla ilgili işlerimizi planlı ve düzenli yapmak aşağıdakilerden hangisini etkiler?

- A) Arkadaşlıklarımızı
- B) Bilgimizi
- C) Başarımızı

7. Aşağıdakilerden hangisi oyun sırasında dikkat etmemiz gerekenlerden değildir?

- A) Arkadaşlarımıza zarar vermemeliyiz.
- B) Arkadaşlarımızla alay etmemeliyiz.
- C) Arkadaşlarımıza hoşgörülü davranmamalıyız.

8. Kaynakları dikkatli ve idareli kullanmamaya denir.

Bu cümledeki noktalı yere hangisi yazılmalıdır?

- A) tasarruf
- B) tutumluluk
- C) savurganlık

9. Hangisi ilkokul 2. sınıf öğrencisi olan İrmak'ın evdeki sorumluluklarından biri olabilir?

- A) Yemek yapmak
- B) Bozulan aletleri tamir etmek
- C) Kıyafetlerini toplayıp dolabına yerleştirmek

10. Aşağıdakilerden hangisi evdeki kişisel eşyalarımızdan değildir?

- A) Çalışma masası
- B) Giysiler
- C) Buzdolabı

11. Para harcarken aşağıdakilerden hangisine öncelik verilmelidir?

- A) İsteklere
- B) İhtiyaçlara
- C) Ev eşyalarına

12. Aşağıdakilerden hangisi baba tarafımızdan yakın akrabalarımız arasında yer alır?

- A) Amca
- B) Teyze
- C) Dayı

13. Hangisinde aile bireyleri arasındaki yardımlaşmaya örnek verilmiştir?

- A) Annem yemek pişirirken ben sofrayı hazırladım.
- B) Kardeşimin canı sıkılınca onunla oyun oynadık.
- C) Ablamdan müziğin sesini biraz kısmasını rica ettim.

14. Aşağıdakilerden hangisi dengeli ve düzenli beslenmenin tanımıdır?

- A) Her çeşit yiyecekte yeterince yemektir.
- B) Sadece sebze ve meyve yemektir.
- C) Bol bol şeker ve çikolata yemektir.

15. Aşağıdaki ifadelerden hangisi doğru bir davranıştır?

- A) Ağızda lokma varken konuşmam.
- B) Yemeğimi çatal, kaşık ve bıçak kullanarak yerim.
- C) Yemek yerken şarkı söylerim.

16.Dengeli ve düzenli beslenen Damla, sabah kahvaltısında aşağıdakilerden hangisini tüketiyor olamaz?

A)



B)



C)



17. Hira' nın hangi davranışı evini temiz tutmadığını gösterir?

- A) Banyo yaparken şampuanı fazla kullanması
- B) Dişlerini fırçalarken suyu açık bırakması
- C) Tuvaletten çıkarken sifonu çekmemesi

18.Amcam, Yenimahalle Toplum Sağlığı Merkezinde çalışmaktadır.

Konuşmasına göre Gürkan'ın amcasının mesleği hangisi olabilir?

- A) Öğretmen
- B) Doktor
- C) Marangoz

19. Park, bahçe gibi ortak kullanım alanlarındaki hangi davranış toplum sağlığına zarar verir?

- A) Çöpleri yerlere atmak
- B) Çiçekleri koparmak
- C) Ağaçlara tırmanmak