


Aşağıdaki kesirleri sayı doğrusunda gösterelim.


$$\frac{3}{4}$$

Kesir basit kesirdir. Bütün 4 eş parçaya bölüldüğü için bizde sayı doğrusunda "0" ile "1" arasını 4 eş parçaya bölüyoruz.



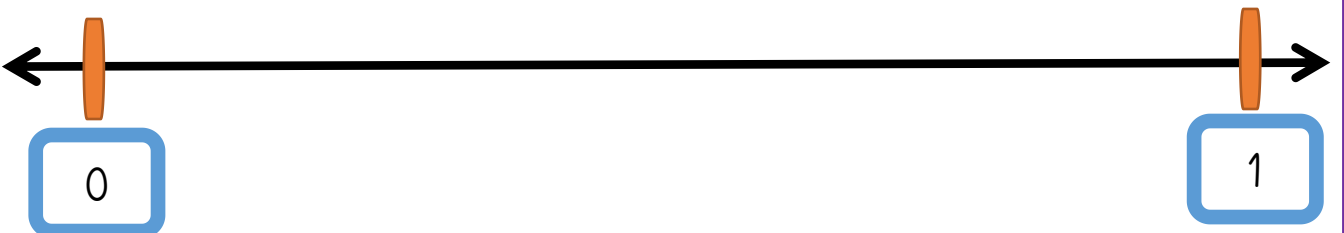
$$\frac{2}{6}$$

Kesir basit kesirdir. Bütün 6 eş parçaya bölüldüğü için bizde sayı doğrusunda "0" ile "1" arasını 6 eş parçaya bölüyoruz.

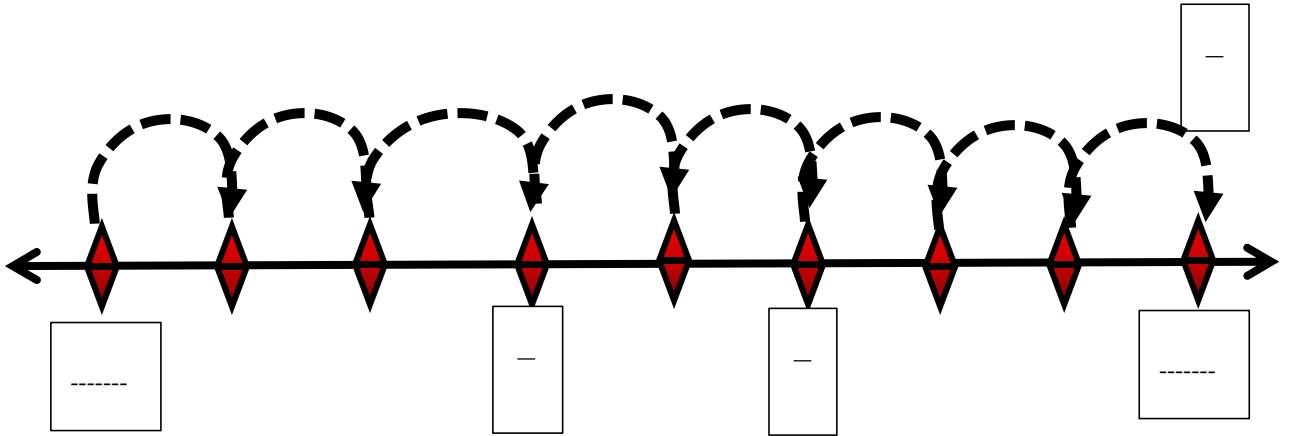
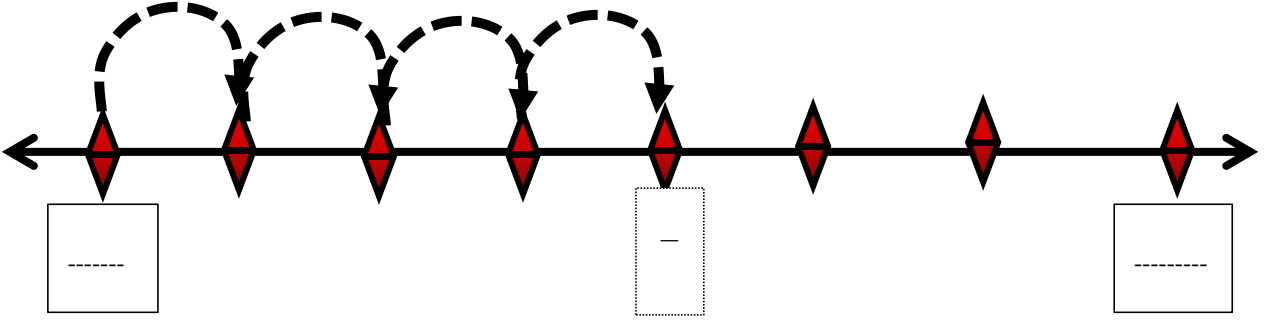


$$\frac{3}{7}$$

Kesir basit kesirdir. Bütün 7 eş parçaya bölüldüğü için bizde sayı doğrusunda "0" ile "1" arasını 7 eş parçaya bölüyoruz.



Aşağıda sayı doğrusunda boş kutucuklara gelecek kesir sayılarını yazınız.



$$\frac{9}{12}$$

Yandaki basit kesri aşağıdaki sayı doğrusunda gösteriniz



