

DOĞAL SAYILAR

Doğal Sayılar - Doğal Sayıları Okuma Yazma

Aşağıda rakamla verilen sayıların okunuşlarını yazınız , okunuşları verilen sayıları ise rakamla yazınız.

Sayı	Okunuşu	Okunuşu	Sayı
658		üç yüz seksen beş	
566		Sekiz yüz on altı	
197		Dört yüz dokuz	
908		Beş yüz beş	

Doğal Sayılar - Doğal Sayıları Abaküste Gösterme

Aşağıdaki abaküslerde modellenen sayıları ve okunuşlarını yazınız.

Yüzlük	Onluk	Birlik	Yüzlük	Onluk	Birlik	Yüzlük	Onluk	Birlik
Okunuşu :			Okunuşu :			Okunuşu :		

Aşağıda okunuşu verilen üç basamaklı sayıları abaküste gösteriniz.

Okunuşu : Sekiz yüz on beş			Okunuşu : Dört yüz kırk dokuz			Okunuşu : Dokuz yüz doksan dokuz		

Doğal Sayılar - Doğal Sayıları Modelleme

Aşağıda onluk taban bloklarıyla modellenen sayıları yazınız.

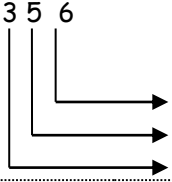
..... yüzlük + onluk + birlik = yüzlük + onluk + birlik =

269 sayısını yüzlük, onluk ve birlik taban blokları kullanarak modelle gösteriniz.

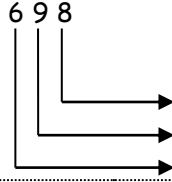
DOĞAL SAYILAR

Doğal Sayılar - Doğal Sayılarda Basamak İsimleri

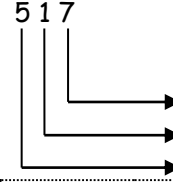
Aşağıdaki doğal sayıların basamak isimlerini yazınız



113 → Yüzler Basamağı :
Onlar Basamağı :
Birler Basamağı :



689 → Yüzler Basamağı :
Onlar Basamağı :
Birler Basamağı :



569 → Yüzler Basamağı :
Onlar Basamağı :
Birler Basamağı :

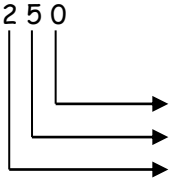
Yüzler Basamağı = 7
Birler Basamağı = 0 →
Onlar Basamağı = 5

Onlar Basamağı = 3
Yüzler Basamağı = 9 →
Birler Basamağı = 7

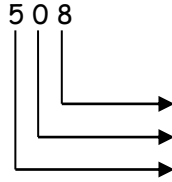
Birler Basamağı = 8
Yüzler Basamağı = 5 →
Onlar Basamağı = 9

Doğal Sayılar - Doğal Sayılarda Basamak Birlik, Onluk ve Yüzlük

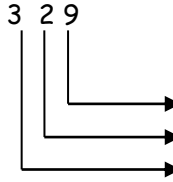
Aşağıdaki boşlukları doldurunuz.



..... tane birlik
..... tane onluk
..... tane yüzlük



..... tane birlik
..... tane onluk
..... tane yüzlük



..... tane birlik
..... tane onluk
..... tane yüzlük

4 Yüzlük
0 Birlik →
8 Onluk

7 Birlik
6 Onluk →
7 Yüzlük

1 Onluk
3 Yüzlük →
8 Birlik

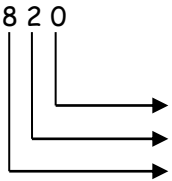
5 Birlik
4 Yüzlük →
9 Onluk

Sayı	Okunuşu	Yüzlük	Onluk	Birlik
958				
	Sekiz yüz elli altı			
		2	0	9
169				

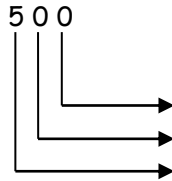
Sayı	Okunuşu	Onluk	Birlik	Yüzlük
	Dört yüz kırk üç			
365				
		4	8	1
	Dört yüz üç			

Doğal Sayılar - Doğal Sayılarda Basamak Değeri ve Sayı Değeri

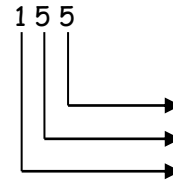
Aşağıdaki doğal sayıların basamak ve sayı değerlerini yazınız.



Basamak Sayı
.....
.....



Basamak Sayı
.....
.....



Basamak Sayı
.....
.....

Sayı	698		
B. Adı B. B. B.
B. Değeri			
S. Değeri			
Okunuşu			

Sayı	453		
B. Adı B. B. B.
B. Değeri			
S. Değeri			
Okunuşu			

Sayı	426		
B. Adı B. B. B.
B. Değeri			
S. Değeri			
Okunuşu			

Sayı	606		
B. Adı B. B. B.
B. Değeri			
S. Değeri			
Okunuşu			

DOĞAL SAYILAR